

さ①


グラフとひょう

なまえ



27人

● まゆみさんのくみで すきなくだものを 1つずつ えにかいて こくばんに はりました。



① 人数を下の ひょうに せいり しましょう。

すきなくだもの

| くだもの | りんご | みかん | いちご | メロン | ぶどう | バナナ |
|------|-----|-----|-----|-----|-----|-----|
| 人数 | | | | | | |

② 人数を ○で あらわした 右の グラフを かきましょう。

すきなくだもの

| | | | | | |
|-----|-----|-----|-----|-----|-----|
| | | | | | |
| | | | | | |
| | | | | | |
| | | | | | |
| | | | | | |
| | | | | | |
| | | | | | |
| | | | | | |
| りんご | みかん | いちご | メロン | ぶどう | バナナ |

③ 人数が いちばん おおいは どの くだものでしょう。

()

④ 人数が 2ばんめに おおいは どの くだものでしょう。

()


グラフとひょう

なまえ



☆ すきな こん虫の カードを, 1人 1つずつ えらんで, 黒ばんに はりました。

30人



① それぞれの こん虫を えらんだ 人数を, ひょうに かきましょう。

| すきなこん虫 | かぶとむし | くわがた | ちょう | てんとうむし | あり | とんぼ |
|--------|-------|------|-----|--------|----|-----|
| 人数(人) | | | | | | |

② 人数を, ○を つかって, 右の グラフに あらわしましょう。

すきな こん虫

| | | | | | |
|-------|------|-----|--------|----|-----|
| | | | | | |
| | | | | | |
| | | | | | |
| | | | | | |
| | | | | | |
| | | | | | |
| | | | | | |
| | | | | | |
| かぶとむし | くわがた | ちょう | てんとうむし | あり | とんぼ |

③ 人数が いちばん おおい こん虫は どれですか。 また なん人ですか。

()て()人

④ くわがたを えらんだ 人は, ありを えらんだ 人より なん人 おおいですか。 ()人 おおい。

さ① こたえ


グラフとひょう

なまえ



27人

● まゆみさんのくみで すきなくだものを 1つずつ えにかいて こくばんにはりました。



① 人数を下のひょうにせいりしましょう。

すきなくだもの

| くだもの | りんご | みかん | いちご | メロン | ぶどう | バナナ |
|------|-----|-----|-----|-----|-----|-----|
| 人数 | 4 | 7 | 3 | 5 | 2 | 6 |

② 人数を○であらわした右のグラフをかきましょう。

すきなくだもの

| | | | | | | |
|-----|-----|-----|-----|-----|-----|---|
| | ○ | | | | | |
| | ○ | | | | | ○ |
| | ○ | | | ○ | | ○ |
| ○ | ○ | | | ○ | | ○ |
| ○ | ○ | ○ | ○ | | | ○ |
| ○ | ○ | ○ | ○ | ○ | ○ | ○ |
| ○ | ○ | ○ | ○ | ○ | ○ | ○ |
| ○ | ○ | ○ | ○ | ○ | ○ | ○ |
| りんご | みかん | いちご | メロン | ぶどう | バナナ | |

③ 人数がいちばんおおいのはどのくだものでしょう。

(みかん)

④ 人数が2ばんめにおおいのはどのくだものでしょう。

(バナナ)


グラフとひょう

なまえ



☆ すきなこん虫のカードを、1人1つずつえらんで、黒ばんにはりました。

30人



① それぞれのこん虫をえらんだ人数を、ひょうにかきましょう。

| すきなこん虫 | かぶとむし | くわがた | ちょう | てんとうむし | あり | とんぼ |
|--------|-------|------|-----|--------|----|-----|
| 人数(人) | 8 | 7 | 4 | 3 | 2 | 6 |

② 人数を、○をつかって、右のグラフにあらわしましょう。

すきなこん虫

| | | | | | | |
|-------|------|-----|--------|----|-----|---|
| ○ | | | | | | |
| ○ | ○ | | | | | |
| ○ | ○ | | | | | ○ |
| ○ | ○ | | | | | ○ |
| ○ | ○ | ○ | | | | ○ |
| ○ | ○ | ○ | ○ | | | ○ |
| ○ | ○ | ○ | ○ | ○ | ○ | ○ |
| ○ | ○ | ○ | ○ | ○ | ○ | ○ |
| かぶとむし | くわがた | ちょう | てんとうむし | あり | とんぼ | |

③ 人数がいちばんおおいこん虫はどれですか。

またなん人ですか。

(かぶとむし)で(8)人

④ くわがたをえらんだ人は、ありをえらんだ人よりなん人おおいですか。

(5)人 おおい。

さ② グラフとひょう

P10 の たいせつなところを このプリントで べんきょうしよう。

2

下の グラフと ひょうを見て、^{ひら}昼休みに した ことについて くわしく しらべましょう。

昼休みに した ことと 人数

| | | | | |
|--------|------|------|----|-------|
| ○ | | | | |
| ○ | | | ○ | |
| ○ | | ○ | ○ | ○ |
| ○ | | ○ | ○ | ○ |
| ○ | | ○ | ○ | ○ |
| ○ | ○ | ○ | ○ | ○ |
| ○ | ○ | ○ | ○ | ○ |
| ドッジボール | おえかき | なわとび | 読書 | おにごっこ |

昼休みに した ことと 人数

| した こと | ドッジボール | おえかき | なわとび | 読書 | おにごっこ |
|-------|--------|------|------|----|-------|
| 人数 | 7 | 2 | 5 | 6 | 4 |

人数が いちばん 多いのは…



こうた



しほ

ドッジボールと おえかきの 人数の ちがいは…

グラフや ひょうに あらわすと、どんな ことが わかりやすくなるか 話し合おう。

人数の 多い 少ないが わかりやすいのは…



りく

人数が わかりやすいのは…



あみ

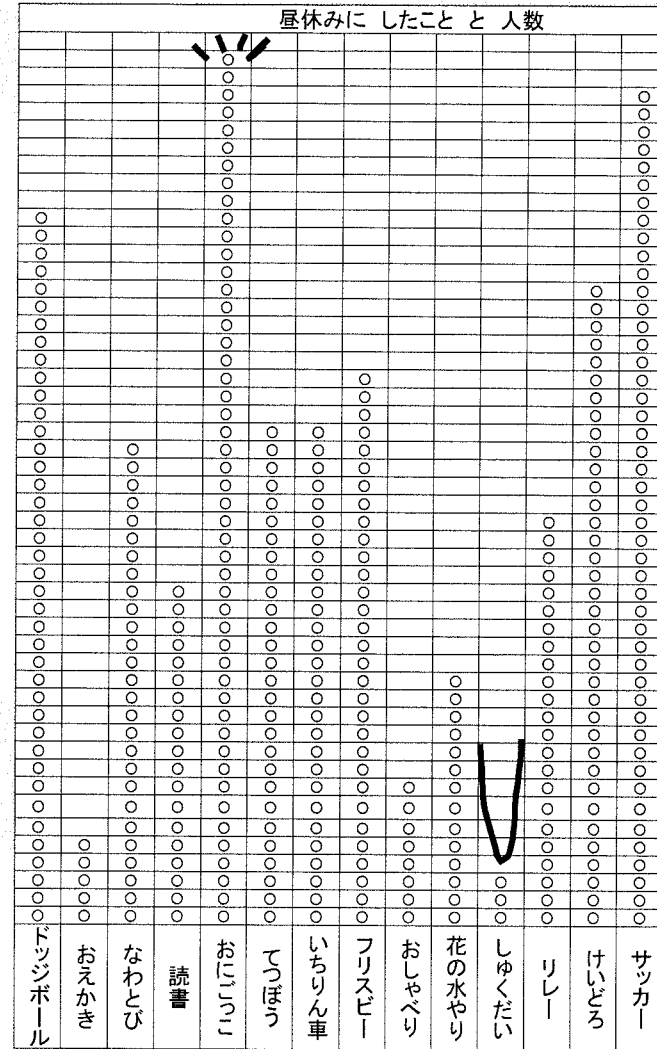
(グラフ ・ ひょう)

どっち ?

(グラフ ・ ひょう)

どっち ?

もっと 数のおおいものを見ると、『グラフのよさ』と『ひょうのよさ』が わかるよ。



『グラフのよさ』
1番 おおいのは (おにごっこ) ()
1番 すくないのは ()
人数がわかりやすい! ()

『ひょうのよさ』
サッカーは なんん人かな?
かぞえるのが たいへんだ... (X)
グラフ人数 たいへん

『ひょうのよさ』
サッカーは () 人だ。
人数がわかりやすい! ()

昼休みに した ことと 人数

| した こと | ドッジボール | おえかき | なわとび | 読書 | おにごっこ | てつぼう | いちりん車 | フリスビー | おしゃべり | 花の水やり | しゆくだい | リレー | けいどろ | サッカー |
|-------|--------|------|------|----|-------|------|-------|-------|-------|-------|-------|-----|------|------|
| 人数 | 40 | 5 | 27 | 19 | 49 | 28 | 28 | 31 | 8 | 14 | 3 | 23 | 36 | 47 |

