

2年 1 (4)	1万までの数	___年 ___組
		名前

つぎの文をしきにあらわしましょう。

①

3502は、
3000と500と2を
あわせた数です。

$$3502 = \boxed{3000} + \boxed{500} + \boxed{2}$$

□にあてはまる「>」、「=」、「<」を
書きましょう。

② 3021 2983

③ 5684 5716

④ 9382 9379

⑤ 6212 6000+200

⑥ 8051 8000+50+1

□にあてはまる数を書きましょう。

⑦1000を9こ、100を1こ、10を2こ

あわせた数は です。

⑧100を100こあつめた数は

です。

⑨8900は より

100小さい数です。

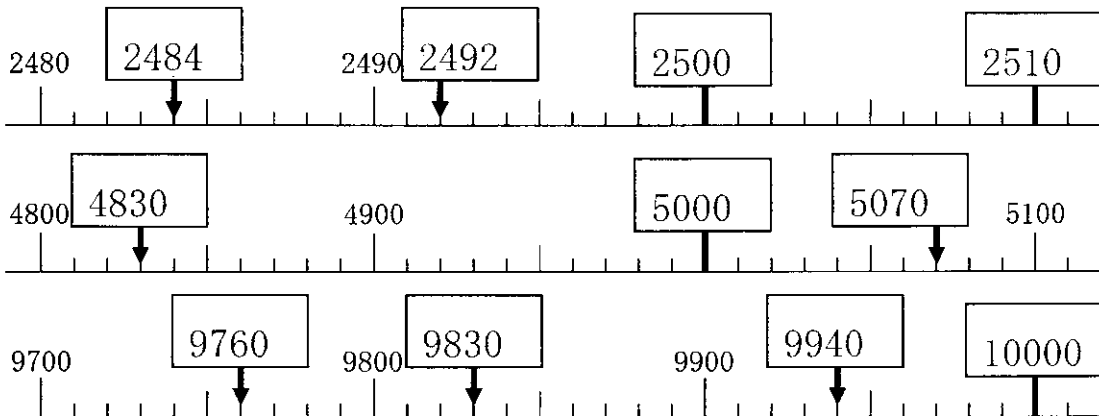
⑩10000は6000より

大きい数です。

⑪4000より600小さい数は

です。

□にあてはまる数を書きましょう。



と
り
組
ん
だ
日 月 日

2年 3 (4)	たし算	___年 ___組 名前
----------------	-----	-----------------

計算をしましょう。

① $19 + 83 = 102$

② $85 + 69 = 154$

③ $39 + 65 = 104$

④ $76 + 75 = 151$

⑤ $91 + 99 = 190$

⑥ $63 + 58 = 121$

⑦ $37 + 85 = 122$

⑧ $74 + 89 = 163$

⑨ $55 + 75 = 130$

⑩ $52 + 79 = 131$

計算をしましょう。

①
$$\begin{array}{r} 38 \\ + 98 \\ \hline 136 \end{array}$$

②
$$\begin{array}{r} 16 \\ + 97 \\ \hline 113 \end{array}$$

③
$$\begin{array}{r} 46 \\ + 94 \\ \hline 140 \end{array}$$

④
$$\begin{array}{r} 54 \\ + 88 \\ \hline 142 \end{array}$$

⑤
$$\begin{array}{r} 93 \\ + 38 \\ \hline 131 \end{array}$$

⑥
$$\begin{array}{r} 47 \\ + 76 \\ \hline 123 \end{array}$$

⑦
$$\begin{array}{r} 58 \\ + 77 \\ \hline 135 \end{array}$$

⑧
$$\begin{array}{r} 45 \\ + 68 \\ \hline 113 \end{array}$$

⑨
$$\begin{array}{r} 46 \\ + 94 \\ \hline 140 \end{array}$$

⑩
$$\begin{array}{r} 36 \\ + 97 \\ \hline 133 \end{array}$$

□は いくつかな

①
$$\begin{array}{r} 97 \\ + \square 7 \\ \hline 15\square \end{array}$$

②
$$\begin{array}{r} \square 3 \\ + 58 \\ \hline 14\square \end{array}$$

③
$$\begin{array}{r} \square 8 \\ + 8\square \\ \hline 176 \end{array}$$

とく^{とく}く^くり^り組^組んだ日 月 日

2年 4 (4)	ひき算	____年 ____組 名前
-------------------------------------	-----	-------------------

計算をしましょう。

① $108 - 43 = 65$

② $106 - 82 = 24$

③ $100 - 3 = 97$

④ $108 - 99 = 9$

⑤ $103 - 28 = 75$

⑥ $105 - 7 = 98$

⑦ $104 - 9 = 95$

⑧ $294 - 58 = 236$

⑨ $331 - 4 = 327$

⑩ $846 - 31 = 815$

計算をしましょう。

①
$$\begin{array}{r} 108 \\ - 69 \\ \hline 39 \end{array}$$

②
$$\begin{array}{r} 106 \\ - 37 \\ \hline 69 \end{array}$$

③
$$\begin{array}{r} 106 \\ - 98 \\ \hline 8 \end{array}$$

④
$$\begin{array}{r} 100 \\ - 92 \\ \hline 8 \end{array}$$

⑤
$$\begin{array}{r} 107 \\ - 88 \\ \hline 19 \end{array}$$

⑥
$$\begin{array}{r} 102 \\ - 94 \\ \hline 8 \end{array}$$

⑦
$$\begin{array}{r} 103 \\ - 6 \\ \hline 97 \end{array}$$

⑧
$$\begin{array}{r} 100 \\ - 95 \\ \hline 5 \end{array}$$

⑨
$$\begin{array}{r} 362 \\ - 46 \\ \hline 316 \end{array}$$

⑩
$$\begin{array}{r} 753 \\ - 9 \\ \hline 744 \end{array}$$

□は いくつかな

①
$$\begin{array}{r} 10\boxed{4} \\ - \boxed{3}8 \\ \hline 66 \end{array}$$

②
$$\begin{array}{r} \boxed{1}\boxed{0}5 \\ - 89 \\ \hline 1\boxed{6} \end{array}$$

③
$$\begin{array}{r} 1\boxed{0}\boxed{0} \\ - \boxed{4}8 \\ \hline 52 \end{array}$$

2年 5 (4)	かけ算	年 組 名前
-------------------------------------	-----	-----------

1 計算をしましょう。

① $3 \times 8 = 24$

② $5 \times 9 = 45$

③ $9 \times 4 = 36$

④ $7 \times 2 = 14$

⑤ $4 \times 8 = 32$

⑥ $2 \times 5 = 10$

⑦ $1 \times 8 = 8$

⑧ $6 \times 6 = 36$

⑨ $8 \times 4 = 32$

⑩ $2 \times 8 = 16$

⑪ $5 \times 7 = 35$

⑫ $3 \times 4 = 12$

⑬ $1 \times 6 = 6$

⑭ $7 \times 4 = 28$

⑮ $9 \times 6 = 54$

2 計算をしましょう。

① $4 \times 1 = 4$

② $6 \times 9 = 54$

③ $8 \times 5 = 40$

④ $5 \times 3 = 15$

⑤ $1 \times 4 = 4$

⑥ $4 \times 6 = 24$

⑦ $7 \times 8 = 56$

⑧ $2 \times 7 = 14$

⑨ $3 \times 9 = 27$

⑩ $6 \times 4 = 24$

⑪ $9 \times 1 = 9$

⑫ $8 \times 9 = 72$

⑬ $4 \times 4 = 16$

⑭ $7 \times 6 = 42$

⑮ $3 \times 7 = 21$

とく
組んだ日 月 日

2年 5 (5)	かけ算	___年 ___組 名前
----------------	-----	-----------------

に数を入れて、計算をしましょう。

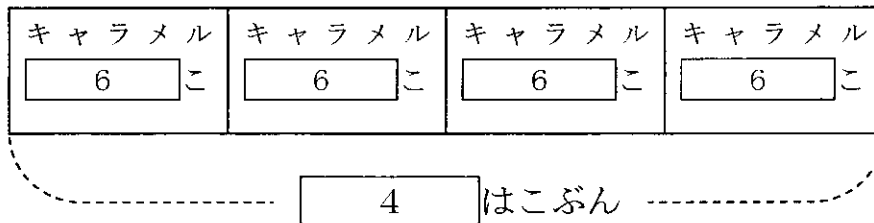
×									

できなかった計算をもう一回、練習しましょう。

2年 6 (5)	式による表し方	____年 ____組 名前
-------------------------------------	---------	-------------------

1はこ 6こいりの キャラメルが 4はこ あります。
 キャラメルは ぜんぶで 何こありますか。

(1) 図に かいて 考え には 数字を () には
 ことばを 書きましょう。



1はこ こ入りキャラメルが はこ あるので

(かけ) ざんをします。

(2) しきに あらわしましょう。

しき $6 \times 4 = 24$

答え 24こ

2年 7 (5)	りょうの たんい	年 組 名前
-------------------------------------	----------	-----------

1 □にあてはまる数を書きましょう。

① 1 m = cm

② 105 cm = m cm

③ 271 mm = cm mm

④ 178 cm = m cm

⑤ 120 cm = m cm

⑥ 8 cm = mm

⑦ 5 m = cm

⑧ 7 m = cm

⑨ 333 mm = cm mm

⑩ 429 cm = m cm

2 □にあてはまる数を書きましょう。

① 1 L = d L

② 3 d L = mL

③ 600 mL = d L

④ 15 d L = L d L

⑤ 1000 mL = L

⑥ 10 d L = mL

⑦ 3 L = mL


⑧ 28 d L = L d L

⑨ 300 mL = d L


⑩ 1 L = mL

3 下の長さの直線をひきましょう。

(ア) 6 cm


 しょうりやく


(イ) 55 mm


 しょうりやく


(ア) と (イ) はどちらがどれだけ長いでしょうか。
 (アのほうが、5 mm長い)

4 □の数をこたえましょう。

①


 dL
 mL

②


 dL
 mL

と くり 組 ん だ 日 月 日

2年 11 (2)	表やグラフ	__年 __組 名前
-----------------	-------	---------------

2年4組で すきなやさいを しらべました。
ひょうをもとに、グラフにあらわしましょう。

しゅるい	きゅうり	なす	だいこん	とまと	じゃがいも
数(人)	6	5	4	3	2

すきな やさい しらべ

●				
●	●			
●	●	●		
●	●	●	●	
●	●	●	●	●
●	●	●	●	●
きゅうり	なす	だいこん	とまと	じゃがいも

一番多いやさい

(きゅうり)

一番少ないやさい

(じゃがいも)

じゃがいもと、なすの
ちがい

(3 人)