

2年 1 (3)	1万までの数	年 組 名前
-------------------------------------	--------	-----------

つぎの文をしきにあらわしましょう。

① 6170は、
6000と100と70を
あわせた数です。

6170 = + +

□にあてはまる「>」、「=」、「<」を
書きましょう。

- ② 9000 8800
- ③ 4300 4500
- ④ 1790 1730
- ⑤ 2500 2000+500
- ⑥ 6100 6000+300

□にあてはまる数を書きましょう。

⑦ 1000を5こ、10を6こ、1を9こ
あわせた数は です。

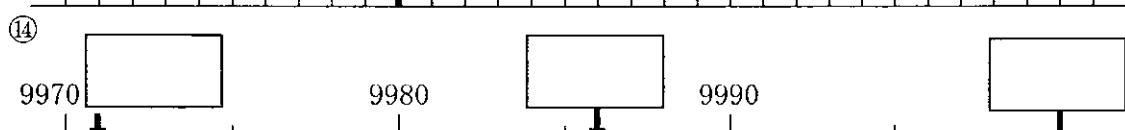
⑧ 3800は と800を
あわせた数です。

⑨ 5700は6000より
 小さい数です。

⑩ 2400は2000より
 大きい数です。

⑪ 10000より3000小さい数は
 です。

□にあてはまる数を書きましょう。



とく組んだ日 月 日



分 数

___年 ___組

名前

1 $\frac{1}{2}$ 、 $\frac{1}{3}$ 、 $\frac{1}{4}$ 、 $\frac{1}{8}$ の大きさをぜんぶえらびましょう。

㊦
 ㊧
 ㊨
 ㊩

㊪
 ㊫
 ㊬
 ㊭

$\frac{1}{2}$ () $\frac{1}{3}$ () $\frac{1}{4}$ () $\frac{1}{8}$ ()

2 つぎの大きさに色をぬりましょう。

$\frac{1}{3}$

 $\frac{1}{4}$

2年 3 (3)	たし算	年 組 名前
-------------------------------------	-----	-----------

<p>計算をしましょう。</p> <p>① $72 + 63$</p> <p>② $76 + 91$</p> <p>③ $83 + 22$</p> <p>④ $88 + 70$</p> <p>⑤ $96 + 53$</p> <p>⑥ $75 + 52$</p> <p>⑦ $53 + 86$</p> <p>⑧ $92 + 71$</p> <p>⑨ $74 + 62$</p> <p>⑩ $83 + 33$</p>	<p>計算をしましょう。</p> <p>① $\begin{array}{r} 93 \\ + 32 \\ \hline \end{array}$ ② $\begin{array}{r} 68 \\ + 61 \\ \hline \end{array}$</p> <p>③ $\begin{array}{r} 41 \\ + 94 \\ \hline \end{array}$ ④ $\begin{array}{r} 56 \\ + 73 \\ \hline \end{array}$</p> <p>⑤ $\begin{array}{r} 53 \\ + 85 \\ \hline \end{array}$ ⑥ $\begin{array}{r} 84 \\ + 82 \\ \hline \end{array}$</p> <p>⑦ $\begin{array}{r} 46 \\ + 71 \\ \hline \end{array}$ ⑧ $\begin{array}{r} 93 \\ + 56 \\ \hline \end{array}$</p> <p>⑨ $\begin{array}{r} 56 \\ + 62 \\ \hline \end{array}$ ⑩ $\begin{array}{r} 62 \\ + 87 \\ \hline \end{array}$</p>
--	--

□は いくつか

① $\begin{array}{r} 95 \\ + \square 2 \\ \hline 15\square \end{array}$	② $\begin{array}{r} \square 3 \\ + 54 \\ \hline 12\square \end{array}$	③ $\begin{array}{r} \square 2 \\ + 8\square \\ \hline 168 \end{array}$
--	--	--

とくくんだひ 月 日

2年 4 (3)	ひき算	___年 ___組
		名前

計算をしましょう。

① $176 - 93$

② $144 - 50$

③ $131 - 57$

④ $146 - 67$

⑤ $181 - 86$

⑥ $114 - 86$

⑦ $163 - 78$

⑧ $120 - 98$

⑨ $165 - 99$

⑩ $172 - 78$

計算をしましょう。

①
$$\begin{array}{r} 134 \\ - 46 \\ \hline \end{array}$$

②
$$\begin{array}{r} 167 \\ - 88 \\ \hline \end{array}$$

③
$$\begin{array}{r} 154 \\ - 77 \\ \hline \end{array}$$

④
$$\begin{array}{r} 147 \\ - 59 \\ \hline \end{array}$$

⑤
$$\begin{array}{r} 176 \\ - 93 \\ \hline \end{array}$$

⑥
$$\begin{array}{r} 110 \\ - 46 \\ \hline \end{array}$$

⑦
$$\begin{array}{r} 135 \\ - 78 \\ \hline \end{array}$$

⑧
$$\begin{array}{r} 141 \\ - 75 \\ \hline \end{array}$$

⑨
$$\begin{array}{r} 121 \\ - 47 \\ \hline \end{array}$$

⑩
$$\begin{array}{r} 166 \\ - 88 \\ \hline \end{array}$$

□は いくつかな

① $15 \square$

② $1 \square 7$

③ $12 \square$

$$\begin{array}{r} \square 8 \\ - \square 8 \\ \hline \end{array}$$

$$\begin{array}{r} 89 \\ - 89 \\ \hline \end{array}$$

$$\begin{array}{r} \square 8 \\ - \square 8 \\ \hline \end{array}$$

77

$7 \square$

49

とく組んだ日 月 日

2年 5 (3)	かけ算	___年 ___組
		名前

8のだんのかけ算をしましょう。

8×1 (八一 はちいちが)

8×2 (八二 はちに)

8×3 (八三 はちさん)

8×4 (八四 はちし)

8×5 (八五 はちご)

8×6 (八六 はちろく)

8×7 (八七 はちしち)

8×8 (八八 はっば)

8×9 (八九 はっく)

9のだんのかけ算をしましょう。

9×1 (九一 くいちが)

9×2 (九二 くに)

9×3 (九三 くさん)

9×4 (九四 くし)

9×5 (九五 くご)

9×6 (九六 くろく)

9×7 (九七 くしち)

9×8 (九八 くは)

9×9 (九九 くく)

かけ算をしましょう。

8×1

8×3

8×4

8×6

8×7

8×9

9×2

9×3

9×4

9×6

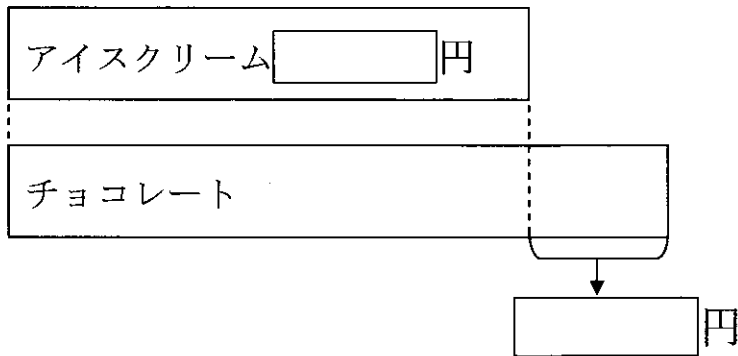
9×7

9×9

2年 6 (3)	式による表し方	年 組 名前
-----------------------	---------	-----------

アイスクリームは 65円です。
 アイスクリームは チョコレートより 15円 やすいそう
 です。
 チョコレートは 何円ですか。

(1) 図に かいて 考え には 数字を ()には
 ことばを 書きましょう。



チョコレートは アイスクリーム 円より 円
 高いから () ます。

(2) しきに あらわしましょう。

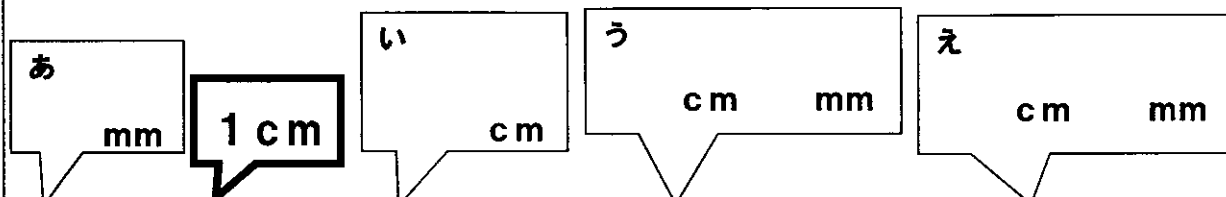
しき

答え _____

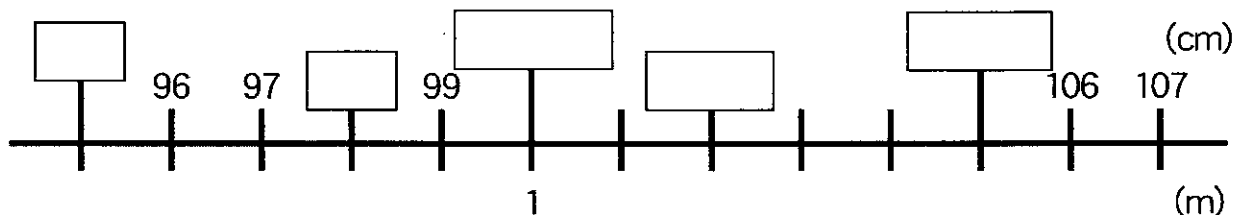
取り組んだ日 月 日

2年 7 (2)	りょうの たんい	___年 ___組 名前
----------------	----------	-----------------

1 あ～えのメモリの長さを口の中に書きましょう。



2 口の中に数を書きましょう。



3 () の中に数を書きましょう。

- ① $1\text{ m} = ()\text{ cm}$ ② $105\text{ cm} = ()\text{ m} ()\text{ cm}$
③ $110\text{ cm} = ()\text{ m} ()\text{ cm}$ ④ $97\text{ mm} = ()\text{ cm} ()\text{ mm}$
⑤ $1\text{ m } 7\text{ cm} = ()\text{ cm}$ ⑥ $120\text{ cm} = ()\text{ m} ()\text{ cm}$

4 長さをしらべましょう。

ア  (70 cm)

イ  (50 cm)


- ① 長いのはどちらですか。 ()
② 2本のテープの長さのちがいは何 cm ですか。 () cm
③ 2本のテープを合わせた長さは何 cm ですか。 () cm
④ 2本のテープを合わせた長さは何 m 何 cm ですか。 () m () cm

2年 8 (5)	時間の たんい	___年 ___組
		名前

1 時こくをもとめましょう。

- ① 5時30分から60分後 = 時 分
- ② 9時40分から20分後 = 時 分
- ③ 11時25分から45分後 = 時 分
- ④ 1時35分から55分後 = 時 分
- ⑤ 3時45分から1時間後 = 時 分
- ⑥ 10時10分から1時間20分後 = 時 分
- ⑦ 8時10分から2時間45分後 = 時 分
- ⑧ 4時35分から5時間45分後 = 時 分
- ⑨ 2時30分から60分前 = 時 分
- ⑩ 12時20分から45分前 = 時 分
- ⑪ 7時10分から55分前 = 時 分
- ⑫ 9時40分から2時間50分前 = 時 分
- ⑬ 6時から1時間30分前 = 時 分
- ⑭ 5時から1時間5分前 = 時 分

2 時間や時こくをもとめましょう。



- ① 10時まであと何分間ですか。
(分間)
- ② 3時間前の時こくは何時ですか。
(時)
- ③ 40分前は何時何分ですか。
(時 分)

3 □に数を書きましょう。

1時間 = 分

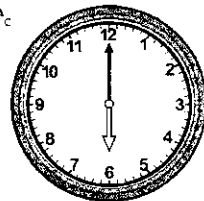
1日 = 時間

110分 = 時間 分

1時間20分 = 分

4 時こくをもとめましょう。

今は午後6時です。ここから長いはりが4回半まわると何時何分になりますか。



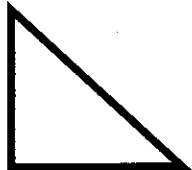


	時	分
--	---	---

とく り 組 ん だ 日 月 日


2年 9 (4)	三角形 四角形	___年 ___組 名前
----------------	---------	-----------------

つぎのひょうをかんせいさせましょう。

図形			
図形の名前			
へんの数			
ちょう点の数			
直角の数			


つぎのかたちの中に正方形はいくつありますか。

(1)




()

(2)



()

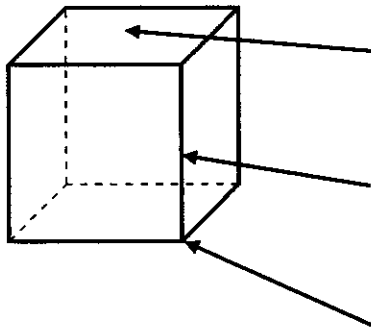
(3)



()

2年 10 (2)	はこの形	___年 ___組
		名前

つぎのはこはさいころの形をしています。
 () に当てはまる言葉や数を書きましょう。



() といい、
 同じかたちのものは () まいある。
 () といい、
 同じ長さのものは () 本ある。
 () といい、() こある。

組み立ててはこになるものをすべてえらびましょう。

