

国語 「一」 読み	第1学年の漢字(読み)	名前	年	組	番	漢字の読み 月 日
-----------------	-------------	----	---	---	---	--------------

の漢字の読みを  
の右側に書き  
ましょう。

- ① 山にのぼって、もみじがり。
- ② さかを下に下りると、村があつた。
- ③ 川下で、さかなをつり上げる。
- ④ たき火をする。
- ⑤ 石やきいもは中がホカホカ。

国語 「一」 読み	第1学年の漢字(読み)	名前	年	組	番	漢字の読み 月 日
-----------------	-------------	----	---	---	---	--------------

の漢字の読みを  
の右側に書き  
ましょう。

- ① 右見て、左見て、車をかくにん。
- ② 赤いしょうぼう車のはしつている。
- ③ てんとう虫も赤いろ。
- ④ 赤い糸をむすんで、あやとり。
- ⑤ 先生にかんじをおしえてもらふ。

国語 「十」 読み	第1学年の漢字(読み)	名前	年	組	番	漢字の読み 月 日
-----------------	-------------	----	---	---	---	--------------

の漢字の読みを  
の右側に書き  
ましょう。

- ① 手ぶくろをして犬のさんぽ。
- ② いちようのはつばを本のしおりにする。
- ③ 木によりかかって、休む。
- ④ 日よう日に町へいく。
- ⑤ ふゆ休みにあつい本をよむ。

国語 「十」 読み	第1学年の漢字(読み)	名前	年	組	番	漢字の読み 月 日
-----------------	-------------	----	---	---	---	--------------

の漢字の読みを  
の右側に書き  
ましょう。

- ① いすから立つて、文字をよむ。
- ② れつの先とは、よしのさんです。
- ③ 文をたくさんかく。
- ④ らい年は、二年生。
- ⑤ 二年生といつしよに学校へいく。

名前	姓 名	年	組	番
課題	第○字及第○字までの内容 いろいろな言葉			
科目	各節			

つぎの文の ( ) に当てはまることをば  
を、あとの [ ] からえらび、書きましよう。

- ① おなかいっぱい食べたので(まんぞく) した。
- ② 大切なえんぴつをなくして(がっかり) した。
- ③ ハチがきゆうにくやに入ってきて  
(おどろ) いた。
- ④ キャンプのことを考えると(わくわく) する。

おどろいた わくわくする まんぞく  
がっかりした

名前	姓 名	年	組	番
課題	第○字及第○字までの内容 いろいろな言葉			
科目	各節			

つぎの文の ( ) に当てはまることをば  
を、あとの [ ] からえらび、書きましよう。

- ① ろうかを走ってしまったことを(はんせい) する。
- ② じゃんけんで勝つことができず、とても  
(ざんねん) だ。
- ③ 図工の時間に、ロボット作りに(むちゆう) になる。
- ④ 先生にはめられて、すなおに(よろこ) ぶ。

よろこぶ はんせいする ざんねん  
むちゆうになる

名前	姓 名	年	組	番
課題	第○字及第○字までの内容 いろいろな言葉			
科目	各節			



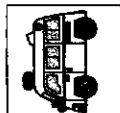
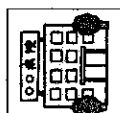
つぎの言葉のグループに入る言葉を、あとの  
[ ] からえらび、その言葉を線でかこみ  
ましよう。

くだもの

りんご	じゃがいも	ガム
ねこ	キヤベツ	からす
バナナ	なす	バナナ
チョコレート	メロン	ねぎ
みかん	キヤラメル	あひる





名前	姓 名	年	組	番
課題	第○字及第○字までの内容 いろいろな言葉			
科目	各節			

つぎの絵にある言葉になるように、四角の中に  
ひらがなを書きましよう。

- ①  きんぎょ [ ] よ
- ②  しや [ ] しん
- ③  きゆうきゆうしや [ ] しや
- ④  びよ [ ] りん





国語 上手	第1学年及び第2学年の内容 言葉⑤	名前	年	組	番
----------	----------------------	----	---	---	---

つぎの絵に<sup>え</sup>ある言葉<sup>ことば</sup>になるように、<sup>しかく</sup>四角の中<sup>なか</sup>にひらがなを書きましょう。

- ①  に  ゆ  う  ど  う  ぐ  も
- ②  お  ち  や
- ③  ち  き  ゆ  う
- ④  ひ  よ  う  た  ん

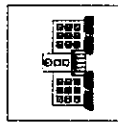
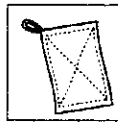


国語 上手	第1学年及び第2学年の内容 言葉⑤	名前	年	組	番
----------	----------------------	----	---	---	---

つぎの絵に<sup>え</sup>ある言葉<sup>ことば</sup>になるように、<sup>しかく</sup>四角の中<sup>なか</sup>にカタカナを書きましょう。

- ①  シ  ョ  ベ  ル  カ  ー
- ②  キ  ヤ  ラ  メ  ル
- ③  カ  ス  タ  ネ  ッ  ト
- ④  パ  イ  ナ  ッ  プ  ル

国語 上手	第1学年及び第2学年の内容 言葉⑤	名前	年	組	番
----------	----------------------	----	---	---	---

つぎの絵に<sup>え</sup>ある言葉<sup>ことば</sup>になるように、<sup>しかく</sup>四角の中<sup>なか</sup>にひらがなをかきましょう。

- ①  が  っ  こ  う
- ②  そ  う  き  ん
- ③  は  っ  ぽ
- ④  え  ん  び  っ

国語 上手	第1学年及び第2学年の内容 言葉⑤	名前	年	組	番
----------	----------------------	----	---	---	---

つぎの文の<sup>ぶん</sup>「」に「わ」と「は」のどちらかをかきましょう。

- ①  わ たあめをたぐる。
- ② よしのさん  は、足がはやい。
- ③  わ にが、かわに<sup>はい</sup>入った。
- ④ そら  は、青<sup>あお</sup>い。

国語 1	漢字の読み方 「え」「く」	年 月 日
---------	------------------	-------------

つぎの文の□に「え」と「く」のどちらかをかきましょう。

- ① え <sup>み</sup>いがを見る。
- ② うみ <sup>く</sup>いく。
- ③ あしたは、え <sup>ん</sup>そくだ。
- ④ 名 <sup>な</sup>ま え <sup>か</sup>を書く。

国語 1	漢字の読み方 「お」「を」	年 月 日
---------	------------------	-------------

つぎの文の□に「お」と「を」のどちらかをかきましょう。

- ① <sup>お</sup>ん <sup>がく</sup>楽しんで <sup>うた</sup>歌 <sup>を</sup> <sup>うた</sup>歌う。
- ② <sup>お</sup>に <sup>ぎり</sup> <sup>を</sup> <sup>た</sup>ぐる。
- ③ テストでまちがえた <sup>かん</sup> <sup>じ</sup> <sup>を</sup> <sup>な</sup> <sup>お</sup>す。
- ④ <sup>お</sup> <sup>お</sup> <sup>きな</sup> <sup>さかな</sup> <sup>を</sup> <sup>つ</sup>る。

1年 2 (2)	ひきざん	____ねん ____くみ なまえ
----------------	------	----------------------

1年 2 (2)	たしざん	____ねん ____くみ なまえ
----------------	------	----------------------

ひきざんをしましょう。

ひきざんをしましょう。

①  $14 - 5 = 9$

⑥  $17 - 9 = 8$

②  $15 - 6 = 9$

⑦  $11 - 2 = 9$

③  $11 - 8 = 3$

⑧  $18 - 9 = 9$

④  $13 - 6 = 7$

⑨  $16 - 8 = 8$

⑤  $12 - 3 = 9$

⑩  $14 - 7 = 7$

たしざんをしましょう。

たしざんをしましょう。

①  $7 + 7 = 14$

⑥  $3 + 9 = 12$

②  $8 + 5 = 13$

⑦  $7 + 6 = 13$

③  $9 + 4 = 13$

⑧  $8 + 7 = 15$

④  $6 + 8 = 14$

⑨  $9 + 2 = 11$

⑤  $5 + 6 = 11$

⑩  $4 + 8 = 12$

くり下がりのれんしゅう

- ①  $11 - 2 = 9$  ②  $11 - 3 = 8$  ③  $11 - 4 = 7$  ④  $11 - 5 = 6$  ⑤  $11 - 6 = 5$  ⑥  $11 - 7 = 4$   
 ⑦  $11 - 8 = 3$  ⑧  $11 - 9 = 2$  ⑨  $12 - 3 = 9$  ⑩  $12 - 4 = 8$  ⑪  $12 - 5 = 7$  ⑫  $12 - 6 = 6$   
 ⑬  $12 - 7 = 5$  ⑭  $12 - 8 = 4$  ⑮  $12 - 9 = 3$  ⑯  $13 - 4 = 9$  ⑰  $13 - 5 = 8$  ⑱  $13 - 6 = 7$

くり上がりのれんしゅう (1)

- ①  $2 + 9 = 11$  ②  $3 + 8 = 11$  ③  $3 + 9 = 12$  ④  $4 + 7 = 11$  ⑤  $4 + 8 = 12$  ⑥  $4 + 9 = 13$   
 ⑦  $5 + 6 = 11$  ⑧  $5 + 7 = 12$  ⑨  $5 + 8 = 13$  ⑩  $5 + 9 = 14$  ⑪  $6 + 5 = 11$  ⑫  $6 + 6 = 12$   
 ⑬  $6 + 7 = 13$  ⑭  $6 + 8 = 14$  ⑮  $6 + 9 = 15$  ⑯  $7 + 4 = 11$  ⑰  $7 + 5 = 12$  ⑱  $7 + 6 = 13$

1年 2 (5)	ひきざん	____ねん ____くみ なまえ
----------------	------	----------------------

1年 2 (5)	たしざん	____ねん ____くみ なまえ
----------------	------	----------------------

ひきざんをしましょう。

ひきざんをしましょう。

①  $23 - 3 = 20$

⑥  $29 - 6 = 23$

②  $81 - 1 = 80$

⑦  $84 - 3 = 81$

③  $57 - 7 = 50$

⑧  $38 - 5 = 33$

④  $49 - 9 = 40$

⑨  $77 - 2 = 75$

⑤  $60 - 0 = 60$

⑩  $99 - 7 = 92$

たしざんをしましょう。

たしざんをしましょう。

①  $30 + 5 = 35$

⑥  $43 + 3 = 46$

②  $80 + 2 = 82$

⑦  $62 + 7 = 69$

③  $60 + 6 = 66$

⑧  $24 + 4 = 28$

④  $20 + 9 = 29$

⑨  $61 + 6 = 67$

⑤  $70 + 8 = 78$

⑩  $95 + 4 = 99$

12-2

十のくらい	一のくらい
○○○○	○○

一のくらいから2をひいたら  
 一のくらいは 2-2=0  
 十のくらいは 10

21-3

十のくらい	一のくらい
○○	○○○○

一のくらいから3をひいたら  
 一のくらいは 1-3=1  
 十のくらいは 20+1=21

おなじくらいの  
かずどうして  
けいさんすると  
いいね

20+3

十のくらい	一のくらい
○○	○○○

2 3

43+2

十のくらい	一のくらい
○○○○	○○○

4 5

おなじくらいの  
かずどうして  
けいさんすると  
いいね

取り組んだ日 月 日		
1年 5 (3)	しきに あらわそう なまえ	___ねん ___くみ さいてん

①あひるが 3わ いました。あとから 4わ やってきました。

あひるは ぜんぶで なんわに なりましたか。

【さいしょにいた あひる】



【あとからきた あひる】



しき

$$3 + 4 = 7$$

こたえ

7わ

②はるかさんは、おりがみを 6まい もっています。

おにいさんから 4まい もらいました。

おりがみは、ぜんぶで なんまいに なりましたか。

【もっていた おりがみ】



【もらった おりがみ】



しき

$$6 + 4 = 10$$

こたえ

10まい

取り組んだ日 月 日		
1年 5 (1)	しきに あらわそう なまえ	___ねん ___くみ さいてん

①赤い花が 4本、白い花が 3本あります。

花は、あわせて なん本 ありますか。



しき

$$4 + 3 = 7$$

こたえ

7ほん

②まるいつみ木が 6こ、さんかくのつみ木が 5こ

あります。つみ木は、ぜんぶで なんこ ありますか。



しき

$$6 + 5 = 11$$

こたえ

11こ

取り組んだ日 月 日		
1年 5 (4)	しきに あらわそう なまえ	___ねん ___くみ さいてん

①いちごが 6こ ありました。2こ たべました。

のこりは なんこでしょう。

いちご



しき

$$6 - 2 = 4$$

こたえ

4こ

②りんごを 5こ かいしました。みかんを りんごより 3こ

すくなく かいしました。みかんは いくつ かったでしょう。

【りんご】



【みかん】

?

すくなく

しき

$$5 - 3 = 2$$

こたえ

2こ

取り組んだ日 月 日		
1年 5 (2)	しきに あらわそう なまえ	___ねん ___くみ さいてん

①赤い花が 9本、白い花が 4本あります。

どちらが なん本 おおいでしょう。



しき

$$9 - 4 = 5$$

こたえ

赤い花が 5本 おおい。

②まるいつみ木が 3こ、さんかくのつみ木が 12こ

あります。どちらが なんこ おおいでしょう。



しき


$$12 - 3 = 9$$


こたえ


さんかくのつみ木が 9こ おおい。

1年 7 (4)	とけい	___ねん ___くみ 名前
----------------	-----	-------------------


1 なんじ なんぷんですか。


①  8じ17ふん


②  1じ23ふん

③  3じ41ふん

2 なんじ なんぷんですか。

①  4じ54ふん

②  11じ33ふん

③  7じ2ふん

1年 5 (5)	しきにあらわそう	___ねん ___くみ なまえ	さいてん
----------------	----------	--------------------	------

① まさとさんは本を6さつ、のぞみさんは本を7さつかりました。ふたりがかりた本は、ぜんぶでなんさつでしょう。

しき  $6 + 7 = 13$

こたえ 13さつ

② とまが10こあります。6人が1こずつたべると、なんこのこりますか。


しき  $10 - 6 = 4$


こたえ 4こ


☆わからないときは、おはなしをえであらわしましょう。


1年 8 (3)	かたち	___ねん ___くみ なまえ
----------------	-----	--------------------





なにに見えますか。

①  (さかななど)

②  (いえなど)



③  (はななど)



 このかたちは、どのかたちとどのかたちでできますか。

ア  イ  ウ  エ 

(イ)と(ウ)

このかたちから、さんかくのいたを1まいうごかしてできるかたちは、どれとどれでしょう。また、2まいうごかしてできるかたちは、どれとどれでしょう。


ア  イ 


ウ  エ 


1まいうごかす (イ)と(エ)

2まいうごかす (ア)と(ウ)

つぎのかたちは、このさんかくのいたが、なんまいでできるでしょう。


ア  ( 2 まい)


イ  ( 4 まい)


ウ  ( 4 まい)

1年 7 (3)	とけい	___ねん ___くみ なまえ
----------------	-----	--------------------


1 なんじ なんぷんですか。


①  4じ10ふん


②  9じ40ふん

③  7じ20ふん

2 なんじ なんぷんですか。

①  5じ15ふん

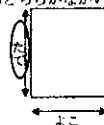

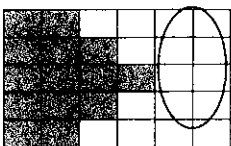



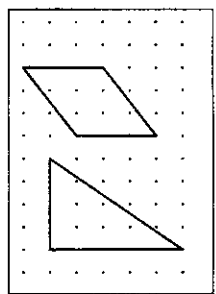
②  12じ45ふん

③  11じ5ふん

<b>B1</b>	1年 算数	年 月 日
		名まえ

<p>① つぎの かずは いくつでしょう。</p> <p>① 10 を 2 こ、1 を 8 こあわせたかず 28</p> <p>② 10 を 30 こあつめたかず 300</p> <p>③ 100 を 4 こ、10 を 5 こあつめたかず 450</p> <p>④ 76 より 5 大きいかず 81</p> <p>⑤ 34 より 6 小さいかず 28</p> <p>⑥ <math>\square \cdot \square = 10</math> にあてはまるかず 3、7 4、6 など</p> <p>② けいさんを しましょう。</p> <p>① <math>2 + 7 = 9</math></p> <p>② <math>4 - 8 = 12</math></p> <p>③ <math>60 + 30 = 90</math></p> <p>④ <math>50 - 9 = 59</math></p> <p>⑤ <math>32 + 5 = 37</math></p> <p>⑥ <math>8 \div 9 = 99</math></p>	<p>③ けいさんを しましょう。</p> <p>① <math>8 - 6 = 2</math></p> <p>② <math>10 - 7 = 3</math></p> <p>③ <math>15 - 8 = 7</math></p> <p>④ <math>90 - 30 = 60</math></p> <p>⑤ <math>49 - 9 = 40</math></p> <p>⑥ <math>68 \div 7 = 61</math></p> <p>④ けいさんを しましょう。</p> <p>① <math>2 + 5 - 3 = 4</math></p> <p>② <math>7 - 3 + 2 = 6</math></p> <p>③ <math>10 - 8 + 7 = 9</math></p>
--	--

<b>B2</b>	1年 算数	年 月 日
		名まえ

<p>⑤ 男の子が 8 人、女の子が 14 人います。</p> <p>① あわせてなん人でしょう。 22人</p> <p>② どちらがなん人おおいでしょう。 おんなの子が 6 人おおい</p> <p>⑥ くらべましょう。</p> <p>① どちらがながいでしょう。</p>  <p>② どちらがおおいでしょう。</p>  <p>③ どちらがひろいでしょう。</p> 	<p>⑦ なんじなんぷんでしょう。</p> <p>①  1じ15ぶん</p> <p>②  8じ40ぶん</p> <p>③  12じ30ぶん</p> <p>⑧ ・と・を せんで つないで、いろいろなかたちをかきましょう。</p> 
---	--