



めあて

東京都は日本のどのあたりにあるのだろうか。

1. 下は調布市の形です。どんな形に見えますか？東京都はどうでしょう？



2. 東京都はどうでしょう。どんな形に見えますか？



3. わたしたちの東京都 P.2,3 の地図から調布市を見つけて、上の地図に赤色をぬりましょう。

4. 東京都を右の白地図から見付け、赤で色をぬりましょう。

また、日本のどこにあるかなど、地図からわかる東京都のことを自分なりの言葉で書きましょう。

北海道から九州の真ん中あたり。

太平洋側。

他の都道府県に比べると小さい。



5. 東京都は何地方にあって、周りには何県がありますか。

また、東京都には区、市、町、村の数はいくつあるか調べて覚えましょう。

地方	関東地方			
周りの県	千葉県	埼玉県	山梨県	神奈川県
区市町村の数	区 23	市 26	町 5	村 8

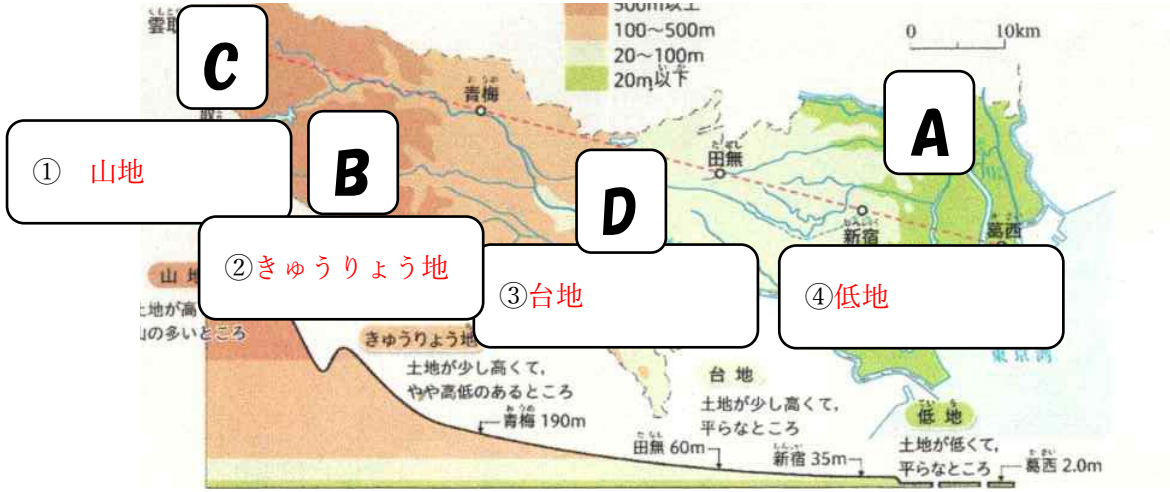
6. 今日の学習をふり返りましょう。

どうだった・どうして・どうしたい？

めあて

東京都の地形の様子はどうなっているのでしょうか。

1. 地形は土地の高さに注目すると4つに分けることができます。P.7を見て地形の名前を書き、特ちょうを覚えましょう。



2. 東京都の地形の特ちょうを、「西」「東」「低い」「高い」という言葉を使って、まとめましょう。

3. 東京都の地形の特ちょうのうち、正しいものに○を、まちがえているものに×をつけましょう。

- ① (×) 東京都には平らな土地が多く、坂道はほとんどない。
- ② (○) 東京都には島もあり、都心から南に約1000kmはなれた場所にある小笠原諸島は、東京都である。
- ③ (×) 土地の高さが高い方から、山地→きゅうりょう地→台地→低地である。
- ④ (×) 東京都の土地の高さは、北が高く、南は低い。
- ⑤ (×) 東京都で一番高い山は、富士山である。

4. 東京都の主な山、川の名前と場所を、地図帳の45ページで調べましょう。そして、上の地図から A～D の場所の記号を選びましょう。

場所	名前	説明
C	雲取山	東京都の西のはじにあり、高さが(2017)mで、東京都で一番高い。
B	高尾山	世界で一番登山者が多い山として有名。(京王)線の終点から登ることができる。
D	多摩川	全長が138km。神奈川県との県境を流れる。
A	荒川	全長が170kmで、東京都で最も長く、大きい川。

5. 今日の学習をふり返りましょう。

どうだった・どうして・どうしたい？

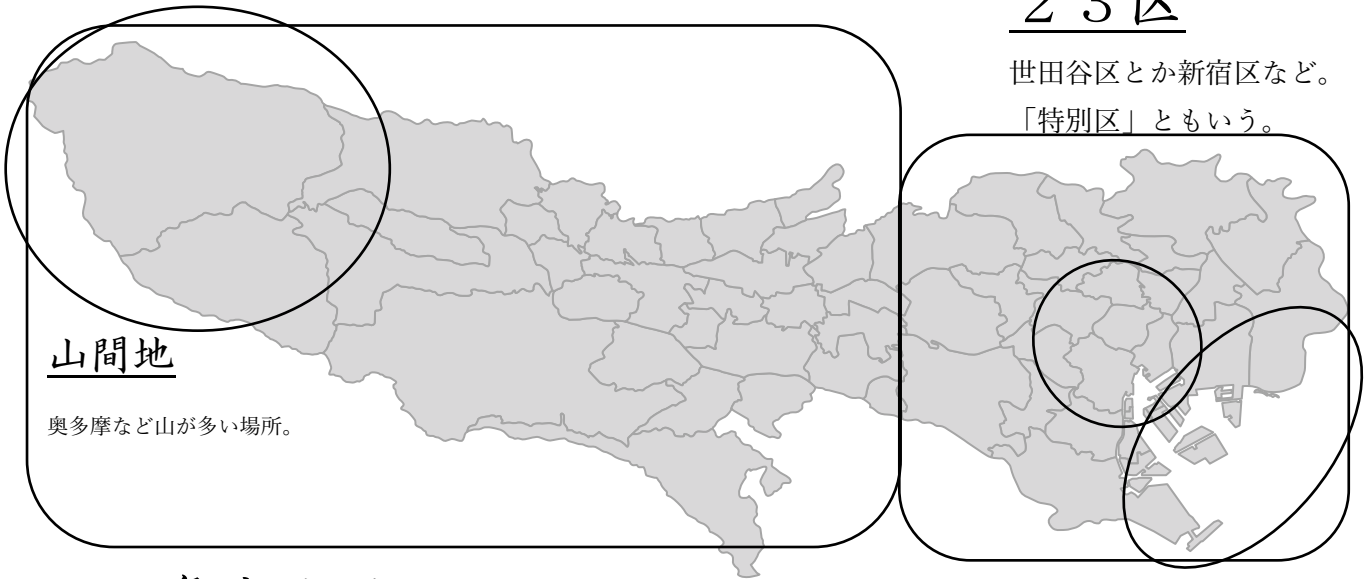
めあて

東京都では、どこでどのような産業がさかんなのでしょう。

1. 東京都には、様々な地区のよび方があります。主なよび方を覚えましょう。

2 3 区

世田谷区とか新宿区など。「特別区」ともいう。



山間地

奥多摩など山が多い場所。

多摩地区

2 3 区より西の地域。調布市は多摩地区にある。

都心

東京の中心。

臨海部

海に面している場所。お台場など。

島しょ部

東京都にある島をまとめた言い方。伊豆諸島、小笠原諸島。

2. 次のものは、東京都のどこに多いのか、P.8の地図で調べ、自分の言葉でまとめましょう。

森林・その他	(キーワード) 東京都の西の方。山間地など。
畑・くだもの畑	(キーワード) 多摩地区。
工場	(キーワード) 臨海部など。
商業地	(キーワード) 都心部など。

3. 東京都の有名なしせつがどこにあるか、地図帳のP.47~49から見つけて、赤でしるしをつけましょう。

東京都庁	国会議事堂	東京スカイツリー
東京タワー	羽田空港	皇居
新国立競技場	日本橋	キッザニア東京

4. 今日の学習をふり返りましょう。

どうだった・どうして・どうしたい？

<p>社会④</p>	<p>「わたしたちの東京都」P. 9</p> <p style="text-align: center;"> <small>こうつうもう</small> 東京都の交通網 </p>	<p>名前</p> <p style="text-align: right;">解答</p>
------------	---	--

1. 東京都の鉄道や高速道路はどんなところを、どのように走っているでしょうか。P.9 の地図から読み取り、前回学習した「地区」と関連させ、()の中に入る言葉を下の□から選んで書きましょう。

東京都の鉄道や高速道路は、(都心)にたくさん走っている。また、都心からその周りに(広がるように)のびている。

山間地	島しょ部	都心	広がるように	関係なく	調布に向けて
-----	------	----	--------	------	--------

2. 東京都の交通網について、正しいものに○を、まちがっているものに×をつけましょう。地図帳の P.44 や P.47～49 を調べたり、おうちの人に聞いたりして考えましょう。

- ①(×) 東京都の空港は、羽田空港 1 つしかない。
- ②(×) 東京都には東海道新幹線は走っていない。
- ③(○) 小笠原諸島に行くには、「おがさわら丸」という船に乗ればよい。
- ④(○) 都心には、地下鉄がたくさん走っている。
- ⑤(×) 雲取山の山頂には、高速道路で行くことができる。
- ⑥(×) 羽田空港の正式な名前は、新東京国際空港である。

3. 都心に交通網が集まる理由を、前回学習した「産業」と関連させながら考えて書きましょう。

4. 今日の学習をふり返りましょう。

<p>どうだった・どうして・どうしたい？</p> <hr style="border-top: 1px dashed black;"/>
--

1. 東京都の位置、地形、産業、交通網の様子について、調べたことをまとめましょう。P.10 の例を参考にして、自分の言葉でミニガイドブックを完成させましょう。

東京都の位置

土地の使われ方



地形のとくちょう

交通の様子

東京都の特色について自分が考えたこと(自分の考え)

2. 今日の学習をふり返りましょう。

どうだった・どうして・どうしたい？

1. 都道府県の名前を、漢字で書きましょう。地図帳で調べながら書いてもいいです。

と どう 府 県
都道府県テスト

☆答え

① 北海道	⑦ 福島県
② 青森県	⑧ 茨城県
③ 岩手県	⑨ 栃木県
④ 宮城県	⑩ 群馬県
⑤ 秋田県	⑪ 埼玉県
⑥ 山形県	⑫ 千葉県

⑬ 東京都	⑳ 滋賀県	㉓ 香川県
⑭ 神奈川県	㉔ 京都府	㉔ 愛媛県
⑮ 新潟県	㉕ 大阪府	㉕ 高知県
⑯ 富山県	㉖ 兵庫県	㉖ 福岡県
⑰ 石川県	㉗ 奈良県	㉗ 佐賀県
⑱ 福井県	㉘ 和歌山県	㉘ 長崎県
⑲ 山梨県	㉙ 鳥取県	㉙ 熊本県
⑳ 長野県	㉚ 島根県	㉚ 大分県
㉑ 岐阜県	㉛ 岡山県	㉛ 宮崎県
㉒ 静岡県	㉜ 広島県	㉜ 鹿児島県
㉓ 愛知県	㉝ 山口県	㉝ 沖縄県
㉔ 三重県	㉞ 徳島県	

2. 都道府県クイズを考えましょう。

ヒント1	
ヒント2	
ヒント3	
ヒント4	

答え()

3. 今日の学習をふり返りましょう。

どうだった・どうして・どうしたい？
